

4. วิชาศิลปะ (ข้อ 38 – 43)

เวลาสอบ 12.17 – 12.23 น.

ส่วนที่ 1 แบบปรนัย 4 ตัวเลือก แต่ละข้อมีคำตอบที่ถูกต้องที่สุดเพียงคำตอบเดียว
จำนวน 5 ข้อ (ข้อ 38 – 42) ข้อละ 7.5 คะแนน รวม 37.5 คะแนน

จงอ่านข้อความต่อไปนี้แล้วตอบคำถามทั้ง 2 ตอน

สายฝน

ทำนอง พระบาทสมเด็จพระเจ้าอยู่หัวภูมิพลอดุลยเดชฯ

คำร้อง พระเจ้าวรวงศ์เธอพระองค์เจ้าจักรพันธ์เพ็ญศิริ

เมื่อลมฝนบนฟ้ามาลิว (1)

เหมือนจะเอนรากคลอนถอนไป

พระพรหมท่านบันดาลให้ฝนหลัง

น้ำทิพย์สดเป็นสายพรายพลิวทิวงาม

สดเป็นสายพรายพลิวทิวทุ่ง (2)

รุ่งเหลืองมลายพรางพรายนภา

พระพรหมช่วยอำนวยให้ชื่นฉ่ำ

น้ำฝนหลังลงมาจากฟ้าแดนไกล

ต้นไม้พลิวลู่กิ่งใบ

แต่เหล่าไม้ยังกลับงาม

เพื่อประทังชีวิตมิทราม

ทั่วเขตคามชุ่มธารา

แดดทอรุ่งอร่ามตา

ยามเมื่อฝนมาแต่ไกล

เพื่อจะนำดับความร้อนใจ


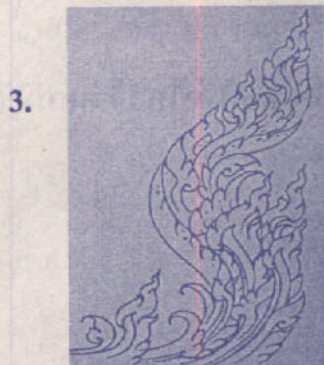

พืชพรรณไม้ชื่นยืนยง



38. จากบทเพลงพระราชนิพนธ์ “สายฝน” ข้อความที่ขีดเส้นใต้ (1) ควรใช้สีใดเป็นหลัก
ในการวาดภาพระบายสี

- | | |
|------------------|------------|
| 1. สีน้ำเงินเข้ม | 2. สีเขียว |
| 3. สีดำ | 4. สีเทา |

39. จากบทเพลงพระราชนิพนธ์ “สายฝน” ข้อความที่ขีดเส้นใต้ (2) น่าจะแสดงออก
ด้วยภาพใด



40. เมื่อร้องเพลงพระราชนิพนธ์ “สายฝน” จบแล้ว นักเรียนคิดว่าคำตอบในข้อใดมีความเกี่ยวข้องกับเนื้อเพลงมากที่สุด
1. ฝนจากฟ้า
 2. สยามเมืองยิ้ม
 3. รักกันไว้เถิด
 4. ในน้ำมีปลาในนามีข้าว
41. เพลงพระราชนิพนธ์ “สายฝน” ควรจัดการแสดงในรูปแบบใด
1. บัลเลต์
 2. เซิ้ง
 3. โขน
 4. รำกลองยาว
42. คำร้องใดในบทเพลงพระราชนิพนธ์ “สายฝน” ที่สามารถปฏิบัติทำไหว้ได้เหมาะสมที่สุด
1. พรายพลีว
 2. ชื่นน้ำ
 3. พระพรหม
 4. ธาธา



ส่วนที่ 2 แบบเลือกคำตอบจากแต่ละกลุ่มที่สัมพันธ์กัน : จำนวน 1 ข้อ
ข้อละ 2.5 คะแนน

จงพิจารณาเลือกคำตอบจากตารางที่ 1-3 ตารางละ 1 คำตอบ
ให้สัมพันธ์สอดคล้องกันมากที่สุด ต้องตอบถูกต้องครบทั้ง 3 คำตอบ
จึงจะได้คะแนน

43. จากบทเพลงพระราชนิพนธ์ “สายฝน” จงหาความสัมพันธ์ให้สอดคล้องกันมากที่สุด
จากตารางที่ 1 ตารางที่ 2 และตารางที่ 3

ตารางที่ 1

โอกาสที่จะได้ฟัง เพลงนี้มากเป็นพิเศษ	1. วันขึ้นปีใหม่	2. วันสงกรานต์	3. วันพ่อ แห่งชาติ	4. วัน ตรุษจีน
---	------------------	----------------	-----------------------	-------------------

ตารางที่ 2

วงดนตรีที่นิยม บรรเลง	1. วงดนตรี พื้นเมือง	2. วงดนตรีไทย	3. วงดนตรีของ ประเทศเพื่อนบ้าน	4. วงดนตรี สากล
--------------------------	-------------------------	---------------	-----------------------------------	--------------------

ตารางที่ 3

เครื่องดนตรีในวงดนตรีดังกล่าว	1. แซกโซโฟน	2. ซึง	3. พิณพม่า	4. ซอฮู้
-------------------------------	-------------	--------	------------	----------

