

## 5. วิชาการงานอาชีพและเทคโนโลยี (ข้อ 44 – 50)

เวลาสอบ 12.23 – 12.30 น.

ส่วนที่ 1 แบบปรนัย 4 ตัวเลือก แต่ละข้อมีคำตอบที่ถูกต้องที่สุดเพียงคำตอบเดียว  
จำนวน 6 ข้อ ข้อ 44 – 48 ข้อละ 1 คะแนน ข้อ 49 ข้อละ 2 คะแนน  
รวม 7 คะแนน

44. ลูงหนึ่งเป็นเกษตรกร ปลูกหัวขาย เมื่อเก็บเกี่ยวผลผลิตได้แล้ว ลูงหนึ่งต้องมีการ  
ดำเนินการจัดการหลังการเก็บเกี่ยวผลผลิตหัวขายอย่างไร เพื่อการบริโภคและจำหน่าย  
เบื้องต้น ก่อนส่งถึงมือผู้บริโภค

1. การเก็บเกี่ยวผลผลิต → การตัดแต่งผลผลิต → การคัดเลือกและคัดขนาด  
ผลผลิต → การทำความสะอาดด้วยน้ำ → การบรรจุหีบห่อ
2. การเก็บเกี่ยวผลผลิต → การคัดเลือกและคัดขนาดผลผลิต → การตัดแต่ง  
ผลผลิต → การทำความสะอาดด้วยน้ำ → การบรรจุหีบห่อ
3. การเก็บเกี่ยวผลผลิต → การทำความสะอาดด้วยน้ำ → การตัดแต่ง  
ผลผลิต → การคัดเลือกและคัดขนาดผลผลิต → การบรรจุหีบห่อ
4. การเก็บเกี่ยวผลผลิต → การตัดแต่งผลผลิต → การทำความสะอาด  
ด้วยน้ำ → การคัดเลือกและคัดขนาดผลผลิต → การบรรจุหีบห่อ









45. นักเรียนจะช่วยป้องกันปัญหาโลกร้อนอย่างยั่งยืนได้อย่างไร

1. ช่วยกันประหยัดพลังงานด้วยการงดใช้เครื่องปรับอากาศ
2. จัดประกวดคำขวัญลดโลกร้อนพร้อมมีของรางวัลมากมายในโรงเรียน
3. รวมพลังเด็กๆ เดินขบวนถือป้ายไปตามถนนให้ผู้ใหญ่เห็นความสำคัญ
4. ชวนเพื่อนในโรงเรียนปลูกต้นไม้ยืนต้นคนละหนึ่งต้นและดูแลรดน้ำให้บ่อย

46. ข้อใดต่อไปนี้เป็นอุปกรณ์ประเภทนำเข้าข้อมูลทั้งหมด

1. ฮาร์ดดิสก์ ซีดี คีย์บอร์ด
2. กล้องดิจิทัล ลำโพง ซีพียู
3. กล้องดิจิทัล จอภาพสัมผัส คีย์บอร์ด
4. จอภาพสัมผัส เครื่องพิมพ์ กล้องดิจิทัล

47. นักเรียนใช้งานโปรแกรมพื้นที่ ทำการ์ดวันเกิดให้คุณพ่อ นักเรียนต้องการเลือกใช้สีเดียวกันกับรูปภาพที่นำมาประกอบในการ์ด ควรเลือกใช้งานกล่องเครื่องมือใด

1. 
2. 
3. 
4. 





48. นายสุพรรณเป็นช่างไม้รับจ้าง เครื่องมืออะไรที่นายสุพรรณไม่จำเป็นต้องใช้ คือข้อใด



ม้อน



ตลับเมตร



เกรียง



กบไสไม้

ข้อมูลนี้ใช้ตอบคำถามข้อ 49

- A กลุ่มเด็กดีสามารถเก็บเงินได้ 3,000 บาท และทอดผ้าป่าได้ปีละ 1 ครั้ง ตามที่กำหนด
- B สมาชิกคนที่ 1 มีความคิดสร้างสรรค์ รักงานประดิษฐ์ จึงมอบหน้าที่ให้ผลิตตุ๊กตา และอีกคนชอบพบปะพูดคุย มอบหน้าที่ให้เป็นคนขายตุ๊กตา
- C กลุ่มเด็กดี ตกลงกันว่าในช่วงปิดภาคเรียนจะเก็บเงินให้ได้ 3,000 บาท เพื่อไปทอดผ้าป่าใกล้บ้านปีละ 1 ครั้ง
- D ได้กำหนดตารางปฏิบัติงานในช่วงปิดภาคเรียน ตามความถนัดของแต่ละคน





49. จากข้อมูลที่กำหนด ข้อใดเรียงลำดับการทำงานเป็นทีมเพื่อหารายได้ระหว่างเรียน  
ของกลุ่มเด็กดีได้ถูกต้อง

1. A → B → C → D
2. C → B → D → A
3. B → A → D → C
4. D → C → A → B

ส่วนที่ 2 แบบปรนัยหลายตัวเลือก จำนวน 1 ข้อ (ข้อ 50 )

มีคำตอบที่ถูกต้อง 3 คำตอบ (คำตอบละ 1 คะแนน) รวม 3 คะแนน

50. ข้อใดสร้างบรรยากาศ “ห้องนำเรียน เพื่อนำรัก” เลือก 3 คำตอบที่ถูกต้อง

1. ทิ้งขยะได้โต๊ะเรียน
2. ยิ้มแย้มทักทายเพื่อน
3. จัดโต๊ะเก้าอี้เป็นแถวตรงกัน
4. กินขนมขณะครูสอน
5. พูดคุยด้วยถ้อยคำเป็นกันเองกับครู
6. ช่วยเพื่อนทำงานวิชาอื่น ขณะครูสอน
7. ถอดรองเท้าวางเป็นระเบียบหน้าห้อง
8. โยนปากกาให้เพื่อนเมื่อเพื่อนขอยืม

